

Пермский край  
2025-2026 учебный год  
**ВСЕРОССИЙСКАЯ ОЛИМПИАДА ШКОЛЬНИКОВ**  
**ПО ИСТОРИИ**  
**МУНИЦИПАЛЬНЫЙ ЭТАП**  
**11 КЛАСС**

**Время выполнения заданий – 150 минут (2 часа 30 минут)**

**Максимальный балл за выполнение заданий – 100**

**Задание 1.** Для каждого объекта, явления или события укажите, с чем связано происхождение прилагательного. (по 1 баллу, итого 6)

Збручский идол

Остромирово Евангелие

Новоогарёвский процесс

Морозовская стачка

Ходынская трагедия

Геннадиевская Библия

**Задание 2.** Соотнесите исторических деятелей и губернии, которые они возглавляли (по 1 баллу, итого 6):

1. П.А. Столыпин

А) Астраханская губ.

2. М.Т. Лорис-Меликов

Б) Санкт-Петербургская губ.

3. Г.Р. Державин

В) Саратовская губ. и Гродненская губ.

4. М.М. Сперанский

Г) Сибирская губ.

5. В.Н. Татищев

Д) Тамбовская губ. и Олонецкая губ.

6. А.Д. Меншиков

Е) Харьковская губ.

**Задание 3.** В 2026 году отмечается 120-летие столыпинской аграрной реформы, одним из направлений которой было переселение в Сибирь. Изучите сведения о переселенческих хозяйствах на примере села Новоархангельское Тобольской губернии (на 1911 г.). Ниже приведены утверждения, ваша задача согласиться или не согласиться с ними и аргументировать свой выбор сведениями таблицы (по 2 балла за ответ, итого 8).

Время переселения	Всего хозяйств	в них людей	в т.ч. мужчин старше 18 лет	Посевов (десятин, в среднем на 1 хозяйство)	Орудий земледелия (в среднем на 1 хозяйство)
Ранее 1893 г.	79	567	128	7,6	3,7
1893-1903 гг.	38	278	70	8,2	3,4
1904-1907 гг.	12	63	16	3,6	2,4
1908 г.	8	41	8	7,0	3,8
1909-1910 гг.	10	53	10	5,3	2,5

А) Среднестатистические переселенцы в Сибирь в ходе столыпинской реформы – это неженатые мужчины.

Б) Переселение велось только на неосвоенные земли Сибири.

В) Количество мужчин в семье напрямую определяло экономическое благополучие хозяйства.

Г) Таблица наглядно демонстрирует, что резкое увеличение кредитов для переселенцев, инициированное в ходе столыпинской реформы, сыграло положительную роль.

**Задание 4.** Ниже приведены выдержки из газеты «Правда» за 1941 г. Определите, в каком месяце (с мая по декабрь) появился каждый текст, месяцы не повторяются (по 1 баллу, **итого 8**)

- А) Товарищи! Граждане! Братья и сёстры! Бойцы нашей армии и флота! К вам обращаюсь я, друзья мои!
- Б) В Клин, Истру, Рогачев выехали специалисты для восстановления местной промышленности. Комиссия Академии наук подготавливает реставрацию дома Л.Н. Толстого.
- В) На подступах к Москве мы создадим новую несокрушимую твердыню. Не покладая рук работают москвичи на новой, необычной для них стройке.
- Г) Коллектив Каменищенской МТС переживает исключительный патриотический подъём. Призываемых тотчас же заменяют женщины. За первый день работы они выполнили дневную норму на 140 процентов.
- Д) Пехота, на лыжи! — вот боевой лозунг воинов Красной армии. Пехота на лыжах пройдёт всюду! Поставить на лыжи и боевую технику — пулемёты, миномёты, легкую артиллерию.
- Е) Вчера состоялась большая радиоперекличка Ленинграда, Киева и Москвы. Первым говорил Ленинград ... - Наш город стал фронтом.
- Ж) Когда через площадь шёл народ Москвы, - готовый к труду, готовый к жертвам, если это будет нужно, готовый к войне, если враг посягнёт на наш мир, - на трибуне мавзолея всё ещё стоял товарищ Сталин.
- З) Английский премьер-министр Черчилль встретился с президентом США Рузвельтом на море, где они разработали совместную англо-американскую декларацию, определяющие цели, за которые борются союзники.

**Задание 5.** Изучите карту городов России XVII в. Ответьте на вопросы (**итого 8 баллов**)



**Условные обозначения:**

- ▲ - в городе 500 или более посадских дворов  
 ■ - в городе 500 или более дворов служилых

А) На карте проведена часть западной границы России. Не ранее какого десятилетия граница имела такое очертание? Кратко поясните выбор.

Б) Назовите основную закономерность расположения «служилых городов».

В) Какое направление торговли в XVII в. способствовало активному росту городов: торговля с Персией или торговля с Англией/ Голландией. Кратко поясните выбор.

А	
Б	
В	
Г	

**Задание 6.** 15 ноября 2025 г. своё 135-летие отметил Пермский краеведческий музей - один из крупнейших региональных музеев страны (*итого 11 баллов*).

1) Назовите населённые пункты, где находятся соответствующие филиалы музея (*по 1 баллу, итого 3*)  
Филиалы:

Дом-музей Николая Славянова;  
Дом-музей Василия Каменского;  
Дом Пастернака

2) В фондах музея хранится коллекция юбилейных медалей, посвящённых памятным датам Прикамья. Назовите эти исторические события. Часть надписей на медалях стёрта (*по 2 балла за ответ, итого 8*)







**Задание 7.** В списке смешаны факты о трёх исторических деятелях средневековья (живших, соответственно, в XI, XIII и XIV вв.). Назовите этих деятелей и укажите соответствующие им факты (*по 1 баллу за ответ, итого 12*)

- А) вошёл в историю с двумя разными отчествами;
- Б) примирил Дмитрия Донского и Олега Рязанского;
- В) упоминается в названии повести о разорении Рязани;
- Г) в его честь названы улицы в Астане и Улан-Баторе;
- Д) встречался с Ярославом Всеволодовичем, Даниилом Галицким, Михаилом Черниговским;
- Е) смог ненадолго вернуть потерянный трон с помощью польского короля;
- Ж) сын ростовского боярина;
- З) согласно летописи, в конце жизни бежал куда-то в Восточную Европу;
- И) основал пять монастырей, в том числе в Коломне, Серпухове, Киржаче

**Задание 8.** Прочтите описания дипломата Д. Флетчера, побывавшего в России в 1588-1589 гг. Вставьте пропущенные в отрывках понятия (по 2 балла за ответ, итого 10).

- А) Принадлежащие же на самом деле к собственному и тайному совету царя, именно те, которые ежедневно находятся при нём для совещания по делам государства, называются [...]  
боярами;
- Б) [...], составляющие пехоту, не носят никакого оружия, кроме самопала в руке, бердыша на спине и меча сбоку. Ствол их самопала не такой, как у солдатского ружья, но гладкий и прямой;
- В) Подать есть положенный сбор с каждой [...], т.е. известного участка, по всему государству.
- Г) Таким образом, царь с важнейшими лицами из духовенства, составив собор в Москве, положили митрополита московского переименовать в [...]. Обстоятельство это очень легко может вести к разделению церквей греческой и русской.
- Д) Гражданские дела начинаются и производятся у них следующим порядком. Истец подает [...], в которой он объясняет предмет своего иска или причиненную ему обиду.

**Задание 9.** Вам предложены произведения искусства XVIII-XIX вв. Расставьте: 1) скульптуры в порядке создания, 2) картины в порядке создания, 3) последовательность рождения людей, запечатлённых скульпторами, 4) последовательность рождения людей, изображённых на картинах. Также соотнесите характеристику автора произведения и его произведение (по 2 балла за верную последовательность, по 1 баллу за соотнесение характеристик, итого 11)

Скульптуры	А	Б	В
			
Картины	Г	Д	Е
			

**Характеристики авторов (выберите из шести предложенных произведений):**

- Выходец из поморских крестьян, династии резчиков по моржовой кости;  
Незаконнорожденный сын графа, получивший фамилию за успехи в чистописании;  
Сын еврейских лавочников из Литвы.

### **Задание 10. Эссе (20 баллов)**

Вам предстоит работать с высказываниями историков и современников о событиях и деятелях отечественной истории. Выберите из них одно, которое станет темой Вашего сочинения-эссе. Ваша задача – сформулировать собственное отношение к данному утверждению и обосновать его аргументами, представляющимися Вам наиболее существенными. При выборе темы исходите из того, что Вы:

1. Ясно понимаете смысл высказывания (не обязательно полностью или даже частично быть согласным с автором, но необходимо понимать, что именно он утверждает).
2. Можете выразить своё отношение к высказыванию (аргументировано согласиться с автором либо полностью или частично опровергнуть его высказывание).
3. Располагаете конкретными знаниями (факты, статистические данные, примеры, в том числе из историографии) по данной теме.
4. Владеете терминами, необходимыми для грамотного изложения своей точки зрения.

Жюри, оценивая Ваше эссе, будет руководствоваться следующими критериями:

1. Введение работы оценивается по двум критериям:
  - обоснованность выбора темы (внятное оригинальное объяснение, демонстрирующее заинтересованность в теме) - до 2 баллов;
  - чёткая постановка задач работы, исходя из понимания смысла высказывания – до 2 баллов.
2. Основная часть оценивается по четырём критериям:
  - творческий характер работы (ярко выраженная личная позиция, заинтересованность в теме, оригинальные, имеющие право на существование, исходя из фактов и историографии, мысли, проблемы и их решение) – до 2 баллов;
  - грамотность использования исторических фактов и терминов – до 4 баллов;
  - аргументированность авторской позиции – до 4 баллов;
  - знание различных точек зрения по избранному вопросу – до 4 баллов.
3. Заключение. Умение делать конкретные выводы по сути своей позиции, исходя из смысла высказывания – до 2 баллов.

### **Темы эссе:**

1. Боярство и дружина, по Повести временных лет, — это та сила, которая вместе с князем формировала государственное строение русского общества IX—XI вв. Никакое социально значимое деяние не обходилось без участия боярства/дружины (А.А. Шайкин)

2. Южнорусские князья объединили свои силы накануне битвы при Калке, но не смогли использовать многочисленные преимущества, которыми располагали. Княжества Северо-Восточной Руси, погруженные в усобицы, не могли договориться о совместной обороне даже перед лицом смертельной опасности (Р.Г. Скрынников *о 1237-1238 гг.*)

3. Народ никогда не бездействует. Русские люди, наши предки, жившие пятьсот лет назад, отнюдь не были только свидетелями и современниками великих исторических событий. Объединение и освобождение Русской земли совершалось их руками, их потом и кровью (Ю.Г. Алексеев)

4. Причин Смуты можно выделить несколько. Главная – в той неустойчивости общественных структур в созданном Иваном IV царстве, давлении и безынициативности широких масс, в кровавой свистопляске, устроенной Грозным в 1560 – 1580-е годы, в ходе которой кроме террора против страны вырисовались необычайные карьерные возможности для служилых людей (А.А. Селин)

5. Стоит констатировать, что рост западных новшеств при Петре явно перешёл из «арифметической прогрессии в геометрическую», повинаясь воле царя, желавшего разом

преодолеть средневековую отсталость посредством копирования западных форм во всех сторонах жизни (Т.В. Черникова)

6. В Верховном тайном совете прорвалось начало, по-видимому, забытое Россией. Должности членов совета попадают в руки придворных боярских родов, быстро складывается у нас олигархия, дело заходит о перемене основы и формы правления и это положило конец существованию совета (А.Д. Градовский)

7. В XIX в. аристократия в последний раз (1825 г.) попробовала путем военного переворота вырвать из рук власти историческую инициативу. Декабризм – это «два в одном» – последние гвардейцы-заговорщики и первые революционеры (Ю.С. Пивоваров)

8. Русские дипломаты сравнивали мирный договор 1856 г. с теми, которые в течение предыдущих полувека диктовали русские генералы после побед. В Париже Россия, признав поражение, платила за близорукость и просчёты внешней политики Николая I (А.Е. Сорока)

9. Период правления Александра III демонстрирует парадоксальность взаимодействия экономики и политики. Начало ускоренного экономического роста пришлось на время, когда реформаторские настроения в обществе иссякли и на смену политике реформ пришло возвратное движение (В.А. Мау)

10. Это была борьба за власть и влияние. Её важной причиной можно назвать личные амбиции наследников Ленина, их неуживчивые характеры и политические амбиции, их революционную привычку бороться ради борьбы и искать врагов. Такое утверждение не отрицает, конечно, наличия у сцепившихся в схватке большевистских вождей различных политических представлений (О.В. Хлевнюк)

11. Сложившаяся к войне экономическая система обеспечивала как теоретическую, так и практическую возможность широкой маневренности ресурсов и их высочайшей концентрации на критических направлениях (А.В. Сафронов *об экономике СССР в годы ВОВ*)

12. «Было две "десятидневки, которые потрясли мир" в истории революционного движения прошлого века: дни Октябрьской революции... и XX съезд Коммунистической партии Советского Союза. Оба события резко и бесповоротно разделили его на "до" и "после"» (Эрик Хобсбаум, *английский историк*)